

1) RESOLVA AS ADIÇÕES:

$$\begin{array}{r} \square \\ + 2 \\ \hline \end{array}$$

$$\begin{array}{r} \square \\ + 4 \\ \hline \end{array}$$


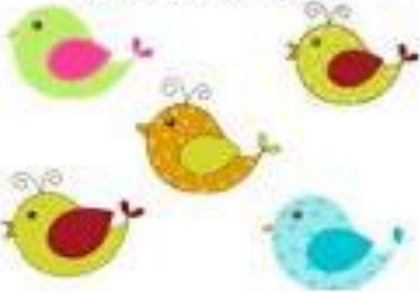




$$\begin{array}{r} \square \\ + 1 \\ \hline \end{array}$$

$$\begin{array}{r} \square \\ + 5 \\ \hline \end{array}$$

$$\begin{array}{r} \square \\ + 3 \\ \hline \end{array}$$

$$\begin{array}{r} \square \\ + 6 \\ \hline \end{array}$$

2) DE ACORDO COM OS DESENHOS, RESOLVA AS HISTÓRIAS MATEMÁTICAS:

<p>NO JARDIM DE ISABELLY TINHA ___ PASSARINHO.</p> 	<p>CHEGARAM MAIS ___ PASSARINHOS.</p> 	<p>NO TOTAL, FICARAM ___ PASSARINHOS.</p> <p>___ ... ___ = ___</p>
<p>LÍVIA TINHA ___ LAÇOS PARA ENFEITAR A ÁRVORE DE NATAL.</p> 	<p>SUA MAMÃE COMPROU MAIS ___ LAÇOS.</p> 	<p>NO TOTAL, FICARAM ___ LAÇOS DE NATAL.</p> <p>___ ... ___ = ___</p>
<p>NA CESTA TINHA ___ MAÇÃS.</p> 	<p>TIA BIA COMPROU MAIS ___ MAÇÃS.</p> 	<p>NO TOTAL, FICARAM ___ MAÇÃS.</p> <p>___ ... ___ = ___</p>

NOME: _____

DATA: **28/09/2021**

JARDIM II - Prof.ª _____